

مدرسة المتنبى الابتدائية - ام الفحم

مهام حساب للصف الثالث (مهمة 2)

اسم الطالب: آخر موعد للتسليم:

ملاحظة: هذه المهام مهمة جدا للامتحانات لذلك انصح الاحتفاظ بها

أكملوا الجدول

الأعداد بالأرقام	الأعداد بالكلمات	الأعداد بالأرقام	الأعداد بالكلمات
403			ثلاث مائة وأربعة عشر
691			مئتان وسبعة
818			مئتان وسبعون
250			سبع مائة وعشرون
702			تسع مائة وواحد
201			ست مائة
807			خمسة مائة وثمانية عشر
623			ثلاث مائة وواحد
426			تسع مائة وتسعة

اكتب العدد السابق والعدد التالي لكل من الأعداد الآتية :-

----- 399 -----

----- 258 -----

----- 300 -----

----- 199 -----

----- 210 -----

----- 231 -----

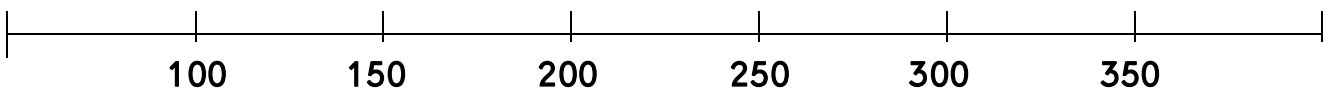
----- 459 -----

----- 890 -----

----- 999 -----

اكتب الأعداد التالية على مستقيم الأعداد (الدقة غير ضرورية) :

282 * 124 * 303 * 149 * 368 * 225



اكمل المتواليات الآتية :-

184 ; 284 ; 384 ; _____ ; _____ ; _____ ; _____ ; _____ ; _____

457 ; 467 ; 477 ; _____ ; _____ ; _____ ; _____ ; _____ ; _____

655 ; 650 ; 645 ; _____ ; _____ ; _____ ; _____ ; _____ ; _____

270 ; 280 ; 290 ; _____ ; _____ ; _____ ; _____ ; _____ ; _____

605 ; 610 ; 615 ; _____ ; _____ ; _____ ; _____ ; _____ ; _____

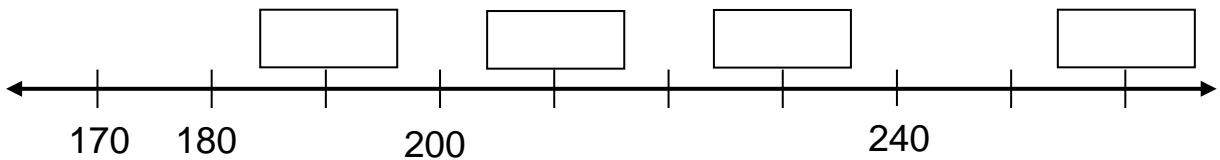
702 ; 704 ; 706 ; _____ ; _____ ; _____ ; _____ ; _____ ; _____

725 ; 726 ; 727 ; _____ ; _____ ; _____ ; _____ ; _____ ; _____

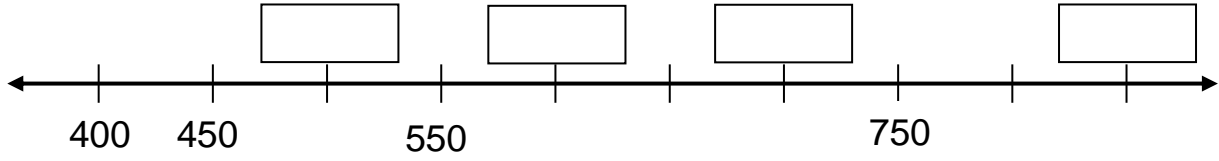
_____ ; _____ ; _____ ; _____ ; _____ ; 512 ; 522 ; _____ ; _____ ; 552

_____ ; _____ ; 231 ; _____ ; _____ ; 228 ; 227 ; _____ ; _____ ; _____

اكمل الاعداد المناسبة في المستطيلات الفارغة:



اكمل الاعداد المناسبة في المستطيلات الفارغة:



اكمل الاعداد الناقصة:

$$297 = \underline{\quad} + 90 + 7$$

$$169 = 100 + \underline{\quad} + \underline{\quad}$$

$$\underline{\quad} = 200 + 60 + 3$$

$$910 = \underline{\quad} + \underline{\quad}$$

$$5_3 = \underline{\quad} + 40 + \underline{\quad}$$

$$2_9 = 200 + 9$$

$$14_ = 100 + 40$$

$$820 = \underline{\quad} + \underline{\quad}$$

ضع رقما ملائما في المكان الخالي بحيث تحصل على قضية صحيحة:

$6 \underline{\quad} \underline{\quad} < 630$	$49 < \underline{\quad} 9$
$70 \underline{\quad} > 700$	$288 < 2 \underline{\quad} 8$

رتب كل مجموعة من مجموعات الأعداد الآتية من الكبير الى الصغير:

457 ، 357 ، 657 ، 157	566 ، 567 ، 563 ، 561
----- > ----- > ----- > ----- .	----- > ----- > ----- > -----
991 ، 901 ، 971 ، 941	715 ، 910 ، 334 ، 675
----- > ----- > ----- > -----	----- > ----- > ----- > -----

4. أنا العَدَدُ 675.
أَكْتُبُوا عَدَدًا أَصْغَرَ مِنِّي بِـ 10. _____

5. أنا العَدَدُ 353.
أَكْتُبُوا عَدَدًا أَصْغَرَ مِنِّي بِـ 4. _____

1. أنا العَدَدُ 880.
أَكْتُبُوا عَدَدًا أَكْبَرَ مِنِّي بِـ 10. _____

2. أنا العَدَدُ 652.
أَكْتُبُوا عَدَدًا أَكْبَرَ مِنِّي بِـ 20. _____

3. أنا العَدَدُ 880.
أَكْتُبُوا عَدَدًا أَكْبَرَ مِنِّي بِـ 20. _____

امامك 3 ارقام :

2 7 5

- (أ) اكبر عدد من ثلاثة منازل يمكن تكوينه من هذه الارقام هو
- (ب) اصغر عدد من ثلاثة منازل يمكن تكوينه من هذه الارقام هو
- (ج) اكتب جميع الاعداد التي يمكن تكوينها من هذه الارقام؟

.....

*** عملا ممتعا يا أبطال ***