

مدرسة المتنبى الابتدائية - ام الفحم  
مهام حساب للصف الثالث ( مهمة 1 )

اسم الطالب: ..... آخر موعد للتسليم: .....

ملاحظة: هذه المهام مهمة جدا للامتحانات لذلك انصح الاحتفاظ بها

اكتب بالكلمات :

- 904 (1) \_\_\_\_\_
- 619 (2) \_\_\_\_\_
- 198 (3) \_\_\_\_\_
- 777 (4) \_\_\_\_\_
- 564 (5) \_\_\_\_\_
- 834 (6) \_\_\_\_\_
- = 826 (7) \_\_\_\_\_
- = 219 (8) \_\_\_\_\_
- = 601 (9) \_\_\_\_\_
- = 111 (10) \_\_\_\_\_

\*\*\*\*\*

اكتب بالاعداد :

- (1) سبع مئة وستة وتسعون \_\_\_\_\_
- (2) مئتان وخمسة وعشرون \_\_\_\_\_
- (3) ثلاث مئة وسبعون \_\_\_\_\_
- (4) ست مئة وثمانية \_\_\_\_\_
- (5) تسع مئة اثنان وأربعون \_\_\_\_\_
- (6) مئة وخمسة وتسعون \_\_\_\_\_
- (7) اربع مئة وخمسة وخمسون \_\_\_\_\_
- (8) تسع مئة وثلاثون \_\_\_\_\_
- (9) ثمانية مئة وستة عشر \_\_\_\_\_
- (10) خمس مئة وستة وثمانون \_\_\_\_\_

\*\*\*\*\*

احط بدائرة العدد الذي فيه رقم المئات هي 7 :

- 709 (د)                      570 (ج)                      597 (ب)                      970 (ا)

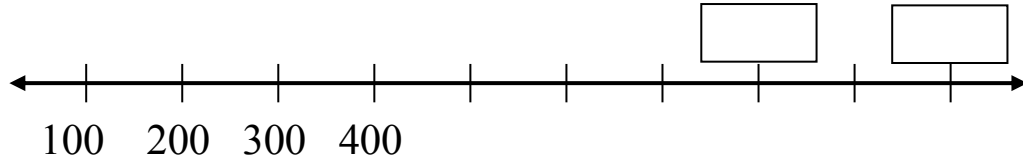
\*\*\*\*\*

إذا ضاعفنا رقم المئات في العدد 434 ، نحصل على العدد \_\_\_\_\_

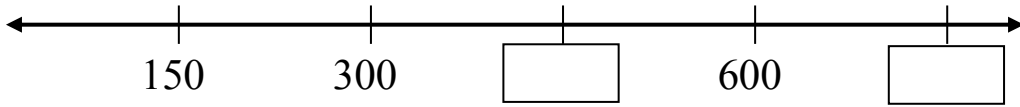
\*\*\*\*\*

اكمل الناقص :

(أ)

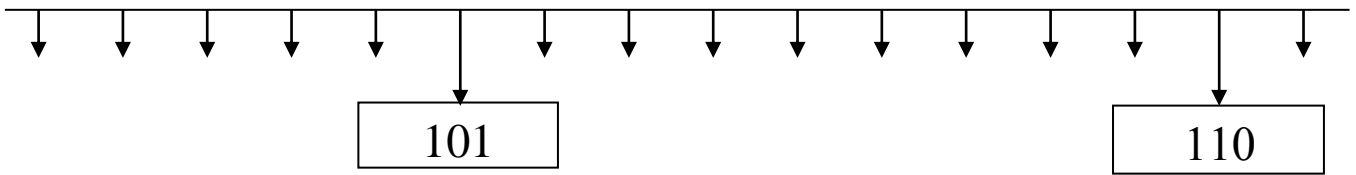


(ب)



\*\*\*\*\*

اكتب الاعداد الناقصة على مستقيم الاعداد:



\*\*\*\*\*

اكمل المتواليات التالية:

485 ، 475 ، \_\_\_\_\_ ، \_\_\_\_\_ ، \_\_\_\_\_

128 ، 133 ، \_\_\_\_\_ ، \_\_\_\_\_ ، \_\_\_\_\_

843 ، 848 ، 853 ، \_\_\_\_\_ ، \_\_\_\_\_ ، \_\_\_\_\_

\_\_\_\_\_ ، 200 ، 300 ، 400 ، \_\_\_\_\_ ، \_\_\_\_\_

\_\_\_\_\_ ، \_\_\_\_\_ ، \_\_\_\_\_ ، 270 ، 240 ، 210 ، \_\_\_\_\_

\_\_\_\_\_ ، \_\_\_\_\_ ، 220 ، 250 ، 280 ، \_\_\_\_\_ ، \_\_\_\_\_

\_\_\_\_\_ ، 144 ، 244 ، \_\_\_\_\_ ، \_\_\_\_\_ ، \_\_\_\_\_

\_\_\_\_\_ ، 850 ، 700 ، 550 ، \_\_\_\_\_ ، \_\_\_\_\_

\*\*\*\*\*

اكتب العدد السابق لكل مما يلي

1) \_\_\_\_\_ 610

2) \_\_\_\_\_ 100

3) \_\_\_\_\_ 190

4) \_\_\_\_\_ 500

\*\*\*\*\*

اكتب العدد التالي لكل مما يلي

1) 609 \_\_\_\_\_

2) 179 \_\_\_\_\_

3) 999 \_\_\_\_\_

4) 899 \_\_\_\_\_

\*\*\*\*\*

21. اكمل الناقص :

300 - ..... = 200

600 - ..... = 400

..... + 150 = 500

..... + 40 = 380

140 - ..... = 50

900 - 139 = .....

56 : 7 = .....

6 × 8 = .....

32 : ..... = 4

..... × 9 = 72

\*\*\*\*\*

ضع الاشارة الملائمة ( < ، = ، > ) :

20 + 135 \_\_\_\_\_ 155 - 20

2 × 6 \_\_\_\_\_ 4 + 8

\*\*\*\*\*

اكتب قيمة كل رقم تحته خط

مثال:  $400 = \underline{6}491$

..... =  $\underline{6}39$  (2)

..... =  $2\underline{6}7$  (1)

..... =  $5\underline{8}1$  (4)

..... =  $27\underline{2}$  (3)

..... =  $\underline{1}00$  (6)

..... =  $4\underline{2}5$  (5)

..... =  $28\underline{1}$  (8)

..... =  $499$  (7)

..... =  $\underline{3}91$  (10)

..... =  $171$  (9)

\*\*\*\*\*

في القفص يوجد 150 دجاجة ، قمنا بذبح 16 دجاجة وبيع 34 دجاجة .

كم دجاجة بقيت في القفص ؟

التمرين: .....

الجواب: .....

\*\*\*\*\*

مع سمير يوجد 150 بنورة. ومع سامي يوجد 63 بنورة.  
أ) بكم بنورة يزيد عدد البنائير التي مع سمير عن سامي؟

التمرين: .....

الجواب: .....

ب) ما هو عدد البنائير الذي في حوزة الاثنين معا؟

التمرين: .....

الجواب: .....

\*\*\*\*\*

نشترى يوميا 4 اكياسا من الحليب.

أ) بكم يوم نشترى 28 كيسا من الحليب؟

التمرين: .....

الجواب: .....

ب) كم كيسا من الحليب نشترى في 5 ايام؟

التمرين: .....

الجواب: .....

\*\*\*\*\*

\*\*\* عملا ممتعا يا أبطال \*\*\*