

مدرسة المتبني الابتدائية

اسمي : _____ الصف: الثالث ()

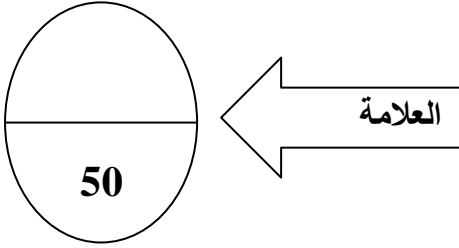
امتحان حساب للصف الثالث

الفصل الثالث

(1) أجب عن جميع الأسئلة

(2) اقرأ السؤال جيداً قبل أن تبدأ الحل.

(3) مدة الامتحان حصتان.



بالنجاح وعطلة سعيدة.
المعلم: محمد فريد محاميد

مركبات العلامة النهائية للفصل الثالث

العلامة النهائية	اشترك ووظائف	مهام	جدول الضرب	اختبار فصلي	اختبار شهري
100%	%10	%10	%10	%50	%20

القسم الأول:

أحط بدائرة الجواب الصحيح (علامة لكل بند):

1) أي من الأعداد التالية يقسم على 5 دون باقي؟

أ) 67 ب) 103 ج) 264 د) 325

2) أنا عدد زوجي بين العددين 348 و 380 فمن أنا؟

أ) 278 ب) 366 ج) 465 د) 332

هيا بنا نحل
الامتحان.
عملاً مثمراً

3) أنا عدد أقسم على 5 وعلى 10 دون باقي فمن أنا؟

أ) 326 ب) 15 ج) 655 د) 50

4) أنا عدد فردي مكون من أربع منازل، فمن أنا؟


أ) 967 ب) 35 ج) 1463 د) 1436

5) أنا عدد ثلاثي أقسم على 10 دون باقي، فمن أنا؟

أ) 70 ب) 250 ج) 4000 د) 225

6) أنا عدد زوجي وأقسم على 5 دون باقي، فمن أنا؟

أ) 75 ب) 315 ج) 20 د) 36



1) حل التمارين الآتية (علامتان لكل بند):

1) $11:3=$ _____

2) $21:3=$ _____

3) $16:6=$ _____

4) $23:5=$ _____



2) عزيزي الطالب تذكر ترتيب العمليات الحسابية ثم حل التمارين التالية (علامتان لكل بند):

1) $12 + 3 \times 9 =$ _____

2) $5 \times 3 + (4 + 2) =$ _____

3) $20 : 20 + 5 \times 2 =$ _____

3) إضرب عمودياً (علامتان لكل بند):

×	6	3	1
			5
<hr/>			

×	4	0	5
			3
<hr/>			

(4) ضع إشارة < او > = (علامتان لكل بند)

1) 600×1 _____ $600:600$

2) $30 \times 40 \times 20$ _____ $30 \times 40 \times 0$

3) $1,025 + 20$ _____ $1,025 - 20$

4) $300 : 10$ _____ $300 : 5$

(5) اجمع عمودياً (علامتان لكل بند):

+	2	5	9	6
	7	6	5	0
<hr/>				

+	7	8	2	8
	1	5	8	5
<hr/>				

(6) اطرح عمودياً (علامتان لكل بند):

-	7	0	3
	5	2	5
<hr/>			

-	4	5	5	3
	2	6	6	2
<hr/>				

القسم الثالث:

مسائل كلامية (علامتان لكل مسألة):

1) يوجد مع سامي 5 أقلام تلوين، وعدد أقلام شام أكثر بـ 6 أضعاف من عدد أقلام سامي. كم قلماً يوجد مع شام؟


التمرين:

الجواب:

2) في مدينة معينة كانوا 5,643 مواطناً. توفي في السنة الأخيرة 86 شخصاً. كم مواطناً يوجد الآن في المدينة؟

التمرين:

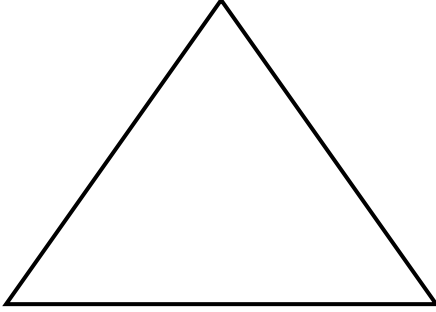
الجواب:



©DISNEY

1) أمامكم المثلث التالي (علامتان لكل بند):

أ) نوع المثلث حسب الأضلاع هو:

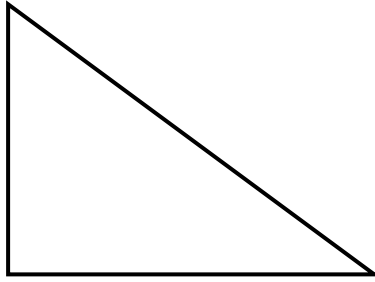


مثلث متساوي الساقين.

مثلث متساوي الأضلاع.

مثلث مختلف الأضلاع.

ب) نوع المثلث حسب الزوايا هو:



مثلث حاد الزوايا.

مثلث قائم الزاوية.

مثلث منفرج الزاوية.

2) ضع دائرة حول الجواب الصحيح: (علامة لكل بند)

أ) نقيس الوزن بـ (أ) الساعة (ب) المتر (ج) الكيلوغرام (د) اللتر

ب) نقيس الزمن بـ (أ) الساعة (ب) المتر (ج) الكيلوغرام (د) اللتر

3) ضع دائرة حول الجواب الصحيح: (علامة لكل بند)


أ) وزن الصوص حوالي: أ) 50 طن ب) 50 كيلو غرام ج) 50 غرام

ب) وزن الفيل حوالي: أ) 5 طن ب) 5 غرامات ج) 5 كيلو غرام

ج) وزن الغزال حوالي: أ) 50 طن ب) 50 كيلو غرام ج) 50 غرام

د) وزن السيارة حوالي: أ) 2 طن ب) 2 غرام ج) 2 كيلو غرام

هـ) وزن الكرسي حوالي: أ) 3 طن ب) 3 كيلو غرام ج) 3 غرام



هل تأكدت
من الحل!
راجع
مرة أخرى

بالنجاح يا حلويين