

مدرسة المتنبى الابتدائية- أم الفحم

امتحان حساب نهاية الفصل الأول

اسم الطالب: _____ الصف الثالث _____ 4.12.2014

1) أكتب بالكلمات. (علامتان)

706 _____

158 _____

2) اكتب بالأرقام. (3 علامات)

مئتان وخمسة وعشرون _____

4 أحاد و 10 عشرات _____

13 أحاد و 5 عشرات _____

3) أكتب أعداداً حسب المطلوب. (5 علامات)

أ- أصغر عدد من منزلتين _____

ب- أكبر عدد من ثلاثة منازل _____

ج- أكبر عدد مكون من الأرقام 9،3،5 _____

د- عدد أصغر من 300، مكون من الأرقام 5،2،7 _____

هـ- عدد أكبر بـ 50 من العدد 750 _____

4) أكتب ما هي قيمة الرّقم 8 في الأعداد الآتية. (3 علامات)

_____ 587

_____ 168

_____ 842

5) اجمع: (علامتان)

$$178 + 253 = \underline{\hspace{2cm}}$$

$$435 + 49 = \underline{\hspace{2cm}}$$

6) اطرح: (علامتان)

$$524 - 271 = \underline{\hspace{2cm}}$$

$$470 - 132 = \underline{\hspace{2cm}}$$

7) أكتب 5 أعداد تقع بين العدد 375 وَالعدد 385. (5 علامات)

(8) على الشجرة 87 عصفوراً، طارَ منهم 32 عصفوراً.
كم عصفوراً بقي على الشجرة؟
(علامتان)

(9) مع أحمد 346 شاقلاً، أعطاه أبوه 67 شاقلاً.
كم شاقلاً أصبح مع أحمد؟
(علامتان)

(10) أكتب العدد السابق والعدد التالي للعدد المعطى.
(6 علامات)

_____ 355 _____

_____ 200 _____

_____ 419 _____

(11) أكمل المتواليات.
(6 علامات)

435 445 _____

118 116 _____

(4 علامات)

أكتب < ، > ، =

$$95 + 12 \quad \underline{\quad} \quad 12 + 95$$

$$84 + 0 \quad \underline{\quad} \quad 84 - 0$$

$$39 + 39 \quad \underline{\quad} \quad 39 - 39$$

$$400 - 158 \quad \underline{\quad} \quad 400 + 158$$

(علامتان)

أكمل العدد الناقص في المعادلات التالية.

$$\underline{\quad} - 272 = 123$$

$$\underline{\quad} + 314 = 594$$

(علامة)

أكتب عدداً مناسباً.

$$540 > \underline{\quad}$$

(علامة)

أكتب رقماً مناسباً.

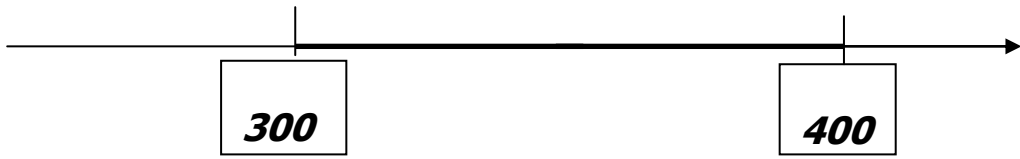
$$531 > 35 \underline{\quad}$$

16) أكتب الاسم الموسع للعدد التالي (حل العدد): (3 علامات)

$$273 = \underline{\quad} + \underline{\quad} + \underline{\quad}$$

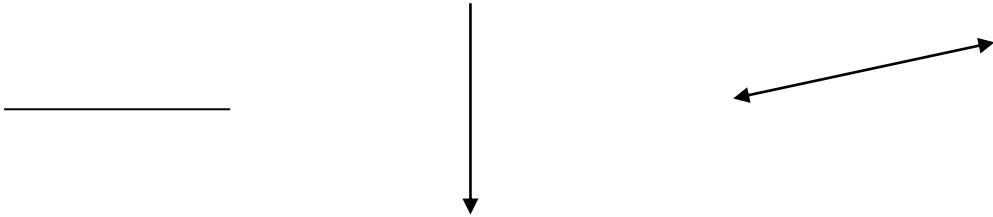
17) احط بدائرة الأعداد الموجودة في المجال المحدد (الغامق): (علامتان)

430 500 540 370 450



اكتب عدداً إضافياً موجوداً في المجال المحدد: _____

18) أكتب الاسم المناسب لكل خط: مستقيم، شعاع، قطعة. (3 علامات)




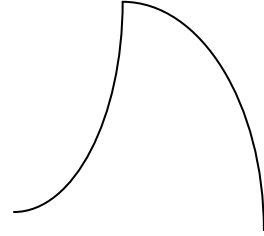
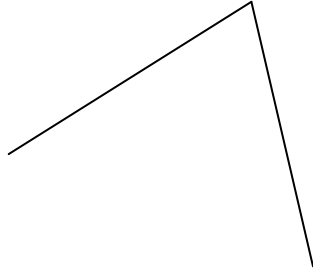
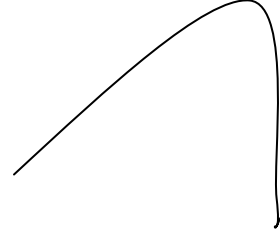
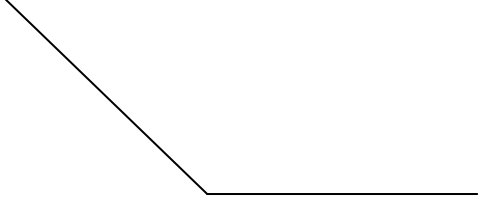
(علامة)

19) حوِّط الزاوية الأكبر.



(20) حوط الزوايا.

(5 علامات)



فكر ، ركز ، حل

أتمنى لك النجاح