

# مدرسة المتنبى الابتدائية - ام الفحم

امتحان حساب فصلي للصف الثالث - الفصل الأول

50

التاريخ: \_\_\_\_\_

اسمي: \_\_\_\_\_

(1) أكتبوا عمودياً ثم حلوا (4 علامات):

أ)  $304 + 126 = \underline{\hspace{2cm}}$



ب)  $798 + 306 = \underline{\hspace{2cm}}$

~~~~~

(2) أكملوا الأعداد الناقصة (4 علامات):

$67 + \underline{\hspace{1cm}} = 89$

$45 - \underline{\hspace{1cm}} = 0$

$10 \times 1 = \underline{\hspace{1cm}}$

$12 \times \underline{\hspace{1cm}} = 0$

~~~~~

(3) أكملوا الأعداد الناقصة (5 علامات):

1)  $3 \underline{\hspace{1cm}} 5 = \underline{\hspace{2cm}} + 40 + 5$

2)  $\underline{\hspace{2cm}} = 900 + 3$

3)  $850 = \underline{\hspace{2cm}} + \underline{\hspace{2cm}}$

4) أكتبوا < أو > أو = ( لا حاجة لتنفيذ العمليات الحسابية): (4 علامات):

$485+312 \quad \underline{\hspace{2cm}} \quad 312+485$

$65 \times 3 \quad \underline{\hspace{2cm}} \quad 3 \times 65$

$10 \times 0 \quad \underline{\hspace{2cm}} \quad 10 \times 1$

$28+28+28 \quad \underline{\hspace{2cm}} \quad 3 \times 27$

.....

5) أكتبوا كتابة رياضية (علامتان):

23 أصغر من 85 من ..... .

مائة أكبر من اثنان وثمانون ..... .

.....

6) من أنا؟ (علامتان)

أنا أكبر بـ 10 من 540 ..... .

أنا أصغر من 385 بـ 30 ..... .

.....

7) اكتبوا في كل بند العدد المناسب (علامتان)

كم تساوي 2 مئات + 7 عشرات ..... .

كم تساوي 8 مئات + 5 آحاد ..... .

.....

8) أكملوا بقفزات ثابتة (4 علامات).

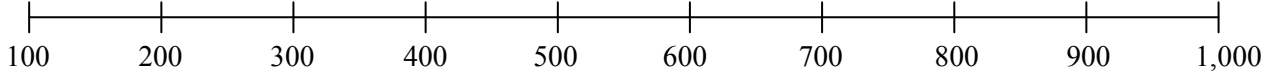
أ) 375, 380, 385, \_\_\_\_\_, \_\_\_\_\_

ب) 152, 150, 148, \_\_\_\_\_, \_\_\_\_\_

.....

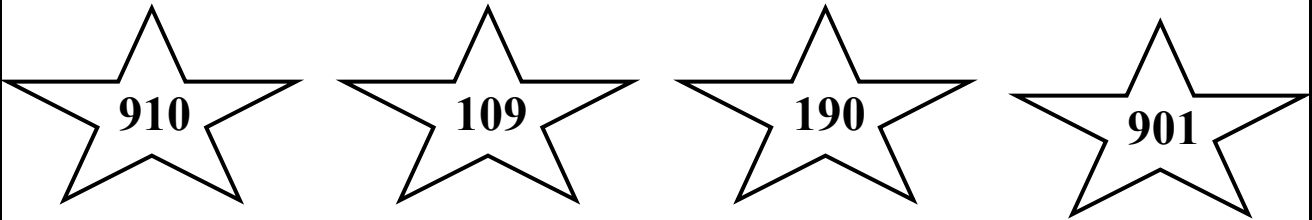
9) مدوا خطأ بين العدد ومكانه ( بالتقريب ) على مستقيم الأعداد ( 3 علامات )

315 , 995 , 180



~~~~~

10) رتبوا الأعداد التالية من الأصغر إلى الأكبر ( 4 علامات ):



\_\_\_\_\_ الأصغر

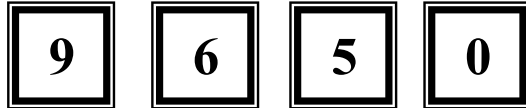
\_\_\_\_\_

\_\_\_\_\_

\_\_\_\_\_ الأكبر

~~~~~

11) استخدموا الأرقام التالية لبناء أعداد حسب المطلوب ( 3 علامات ):



أ) عدداً من ثلاث منازل فيه رقم العشرات 0 \_\_\_\_\_

ب) أصغر عدد من ثلاث منازل يمكن الحصول عليه \_\_\_\_\_

ت) أكبر عدد من ثلاث منازل يمكن الحصول عليه \_\_\_\_\_

~~~~~

12) مع مجد 40 بنورة.

ومع صديقه علي 12 بنورة أكثر منه.

كم بنورة معهما؟

(علامتان)

التمرين: \_\_\_\_\_

الجواب: \_\_\_\_\_



13) مع سلام 80 شاقلا

تنوي شراء لعبة ثمنها 98 شاقلا.

كم ينقصها من المال؟


(علامتان)

التمرين: \_\_\_\_\_

الجواب: \_\_\_\_\_




### قسم الهندسة:



أ. أشيروا على الساعة عقربي الدقائق والساعات لتشير

على الساعة الثامنة و عشرة دقائق . (علامة)



ب. أشيروا على الساعة عقربي الدقائق والساعات لتشير

على الساعة الثانية و النصف (علامة)



1) اكتبوا الساعة بالكلمات ( علامتان ):

\_\_\_\_\_ ( قبل الظهر / بعد الظهر ) \_\_\_\_\_

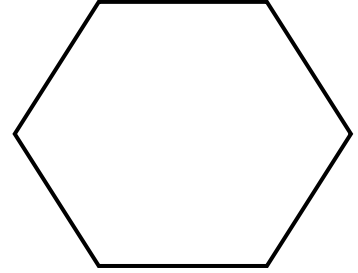
18:15



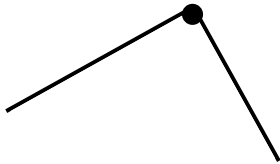
2) أكتب المعلومات الناقصة عن المضلع التالي ( علامتان ):

اسم المضلع: \_\_\_\_\_

عدد الزوايا: \_\_\_\_\_



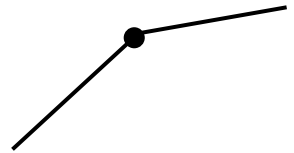
3) اكتب اسم الزاوية ( 3 علامات )



.....



.....



.....



## مسألة بونوس (علامتان):

سعر كتاب و 4 أقلام هو 50 شاقلاً.

سعر القلم الواحد 5 شواقل.


ما هو سعر الكتاب؟

التمرين: \_\_\_\_\_


الجواب: \_\_\_\_\_




## اسئلة بونوس:



1- ارسم العقرب الطويل للساعة بحيث تصبح الزاوية بين العقارب قائمة. ( علامة )



2- ارسم العقرب الطويل للساعة بحيث تصبح الزاوية بين العقارب حادة. ( علامة )



3- ارسم العقرب الطويل للساعة بحيث تصبح الزاوية بين العقارب منفرجة. ( علامة )



بالنجاح والتوفيق

الاستاذ محمد فريد والمعلمة فاطمة يعقوب